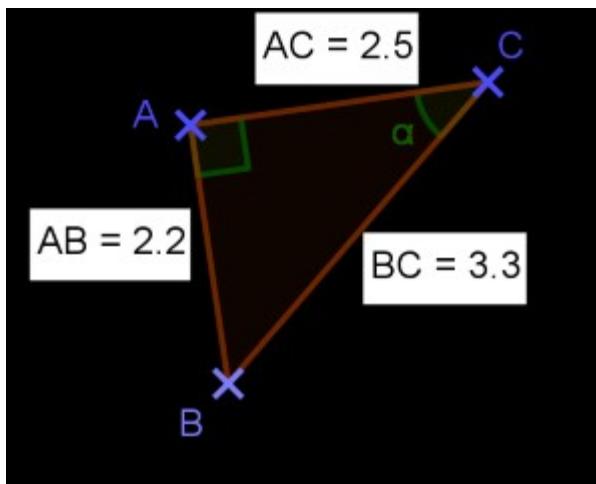


## Trigonométrie : angle

**Question 1**

/ 1

Combien mesure l'angle ?  
(Au degré près.)

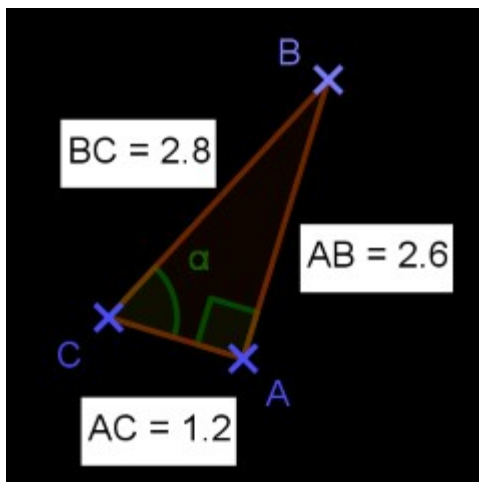


- 41°  
 49°  
 139°  
 Une autre réponse

**Question 2**

/ 1

Combien mesure l'angle ?  
(Au degré près.)



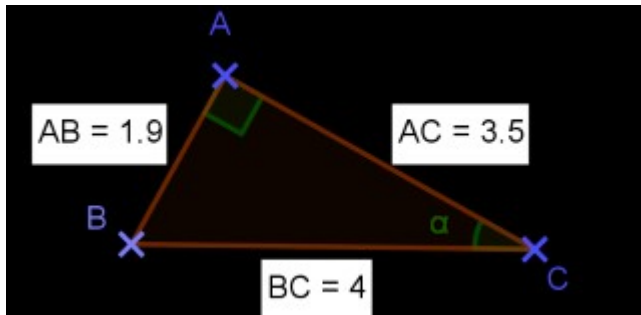
- 115°  
 65°  
 Une autre réponse  
 25°

## Trigonométrie : angle

**Question 3**

/ 1

Combien mesure l'angle ?  
(Au degré près.)

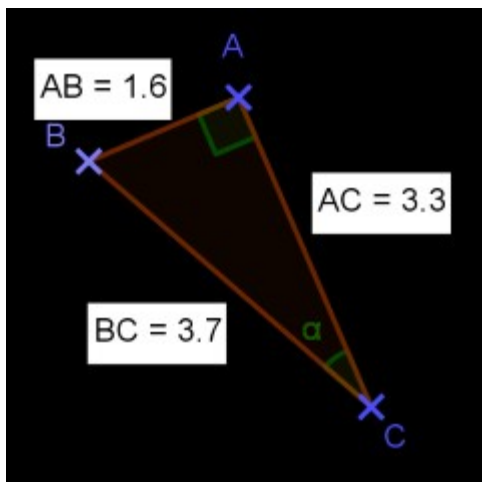


- 61°  
 29°  
 119°  
 Une autre réponse

**Question 4**

/ 1

Combien mesure l'angle ?  
(Au degré près.)



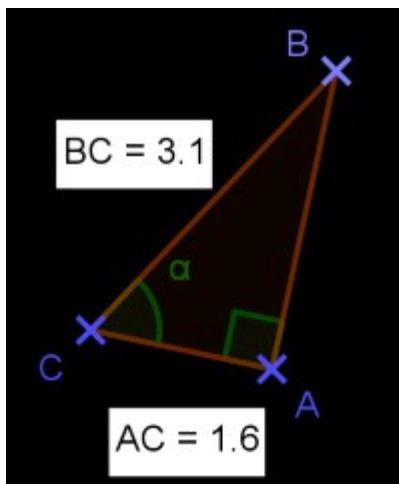
- 63°  
 Une autre réponse  
 27°  
 153°

## Trigonométrie : angle

## Question 5

/ 1

Combien mesure l'angle ?  
(Au degré près.)

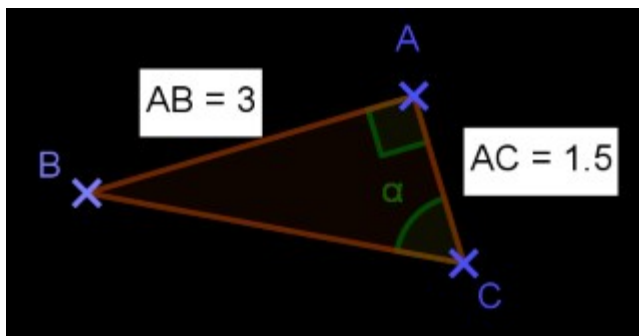


- 59°
- Une autre réponse
- 21°
- 159°

## Question 6

/ 1

Combien mesure l'angle ?  
(Au degré près.)



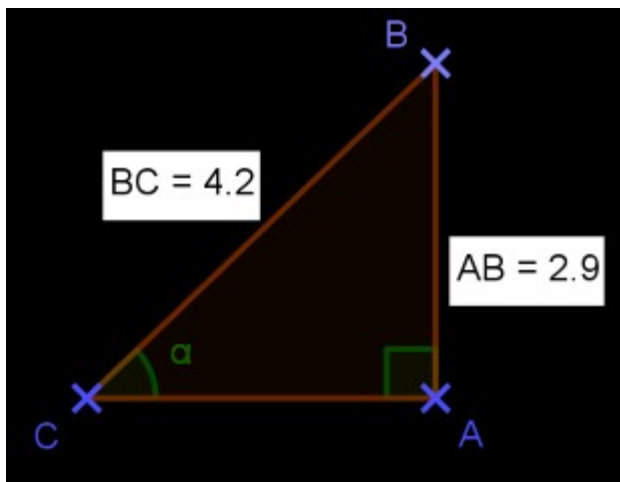
- 27°
- Une autre réponse
- 127°
- 63°

## Trigonométrie : angle

## Question 7

/ 1

Combien mesure l'angle ?  
(Au degré près.)

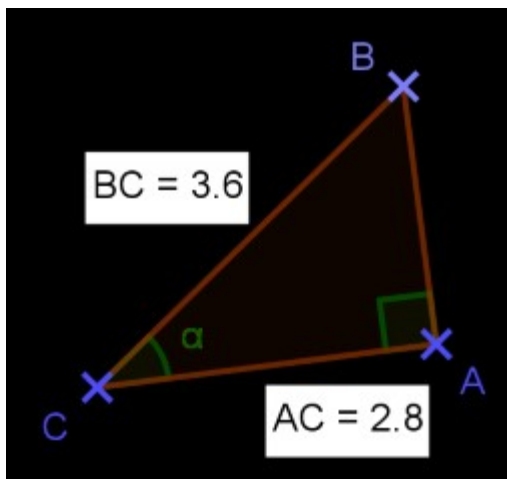


- Une autre réponse
- $44^\circ$
- $134^\circ$
- $46^\circ$

## Question 8

/ 1

Combien mesure l'angle ?  
(Au degré près.)



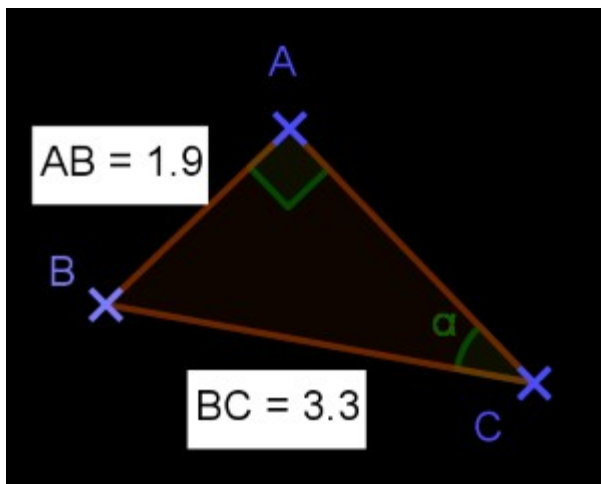
- $39^\circ$
- $141^\circ$
- Une autre réponse
- $51^\circ$

## Trigonométrie : angle

## Question 9

/ 1

Combien mesure l'angle ?  
(Au degré près.)

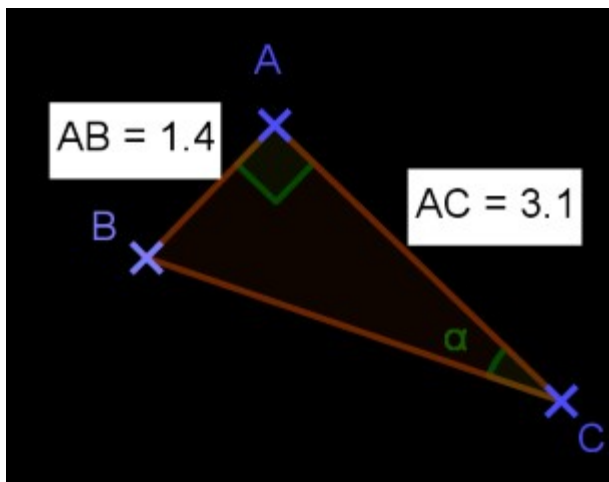


- 90°
- Une autre réponse
- 35°
- 55°

## Question 10

/ 1

Combien mesure l'angle ?  
(Au degré près.)



- 24°
- Une autre réponse
- 156°
- 66°